

# 第五单元自测卷

(时间:40 分钟 满分:100 分)

## 一、填一填。(1~5 题,每空 1 分,6 题 6 分,共 41 分)

1. 在( )里填上合适的单位。

- 一双皮鞋 400( )
- 一枚邮票 80( )
- 一支钢笔 30( )
- 一本精装画册 20( )
- 一袋酸奶 3( ) 2( )

2. 6 元=( )角 90 角=( )元

3 元 5 角=( )角

66 角=( )元( )角

3 角 5 分=( )分 100 分=( )元

3. (1)1 元可以换( )个 1 角,也可以换( )个 5 角。

(2)2 元可以换( )个 1 角,也可以换( )个 5 角,还可以换( )个 1 元。

4. 在○里填上“>”“<”或“=”。

- 10 分○10 角
- 1 元 5 角○15 角
- 5 元○80 分
- 8 元○8 角
- 1 元 3 角○7 角
- 58 角○8 元 5 角

5. 算一算。

$$5 \text{ 元} - 3 \text{ 元} = ( ) \text{ 元}$$

$$1 \text{ 元} - 4 \text{ 角} = ( ) \text{ 角}$$

$$6 \text{ 元} + 5 \text{ 角} = ( ) \text{ 元} ( ) \text{ 角}$$

$$10 \text{ 元} + 4 \text{ 元} = ( ) \text{ 元}$$

$$7 \text{ 角} + 3 \text{ 角} = ( ) \text{ 角} = ( ) \text{ 元}$$

$$6 \text{ 角} + 7 \text{ 角} = ( ) \text{ 元} ( ) \text{ 角}$$

$$1 \text{ 角} - 5 \text{ 分} = ( ) \text{ 分}$$

$$1 \text{ 元} 2 \text{ 角} - 2 \text{ 角} = ( ) \text{ 元}$$

6. 按从大到小的顺序排一排

100 元 20 元 9 分 10 元 5 角

5 元 20 角 9 角 1 元 9 角 60 角

二、选一选。(10 分)

1. 一本日记本的价钱大约是( )

- ①8 元
- ②8 角
- ③8 分

2. 妈妈用 10 元钱买了一瓶饮料,找回 5 元 5 角,这瓶饮料的价钱是( )

- ①5 元
- ②5 元 5 角
- ③4 元 5 角

3. 一张 50 元人民币可以换一张 20 元和( )张 10 元的。

- ①5
- ②3
- ③2

4. 一块橡皮 5 角,英英拿 1 元钱买这块橡

家长签字:

教师评语:

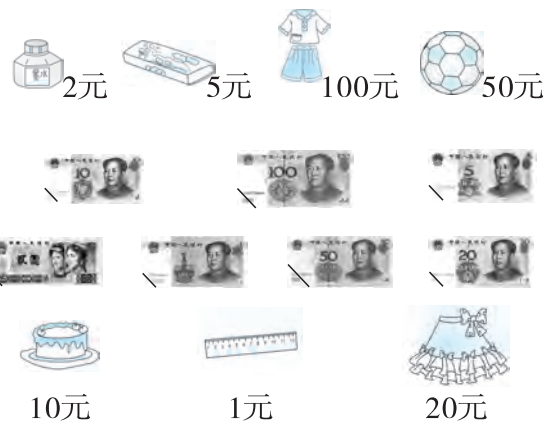
皮,应找回( )

- ①5 元
- ②5 角
- ③5 分

5. 一支笔要 5 元,一个文具盒要 8 元。文具盒比这支笔( )

- ①贵
- ②便宜
- ③无法比较

三、连一连。(7 分)



四、怎样付钱,在( )里填上需要的张数。(6 分)




6 元 5 角



## 五、解决问题。(共 36 分)

1.



(1) 这 3 种各买一样, 30 元够吗?

(2) 明明拿 50 元买文具盒, 应找回多少钱?

$$\square \bigcirc \square = \square (\quad)$$

(3) 一个文具盒比一本笔记本便宜多少钱?

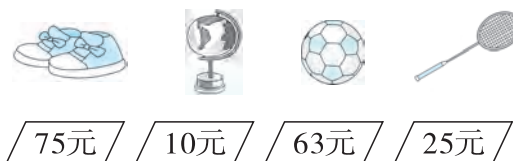
$$\square \bigcirc \square = \square (\quad)$$

(4) 你能再提一个问题吗, 并解答。

\_\_\_\_\_?

$$\square \bigcirc \square = \square (\quad)$$

2.



(1) 一个足球和一个地球仪共要多少钱?

$$\square \bigcirc \square = \square (\quad)$$

(2) 付 50 元买一个足球, 还差多少元钱?

$$\square \bigcirc \square = \square (\quad)$$

(3) 羽毛球拍比地球仪贵多少钱?

$$\square \bigcirc \square = \square (\quad)$$

(4) 妈妈付 85 元, 找回 10 元。她买了什么商品?

$$\square \bigcirc \square = \square (\quad)$$

她买了( )


(5) 50 元钱可以买上面哪两种商品。

$$\square \bigcirc \square = \square (\quad)$$

$$\square \bigcirc \square$$

买了( )和( )。

3.



(1) 英英买了一个水杯, 还剩 23 元, 英英原来有多少钱?

$$\square \bigcirc \square = \square (\quad)$$

(2) 妈妈付 15 元钱买一副手套, 找回了 3 元钱, 这副手套多少钱?

$$\square \bigcirc \square = \square (\quad)$$

(3) 明明也买了一副手套, 他付的都是 5 元一张的, 他至少要付几张?



# 第五单元自测卷

(时间:40 分钟 满分:100 分)

## 一、填一填。(1~5 题,每空 1 分,6 题 6 分,共 41 分)

1. 在( )里填上合适的单位。

一双皮鞋 400(元)

一枚邮票 80(分)

一支钢笔 30(元)

一本精装画册 20(元)

一袋酸奶 3(元)2(角)

2. 6 元=(60)角 90 角=(9)元

3 元 5 角=(35)角

66 角=(6)元(6)角

3 角 5 分=(35)分 100 分=(1)元

3. (1)1 元可以换(10)个 1 角,也可以换(2)个 5 角。

(2)2 元可以换(20)个 1 角,也可以换(4)个 5 角,还可以换(2)个 1 元。

4. 在○里填上“>”“<”或“=”。

10 分<10 角

1 元 5 角=15 角

5 元>80 分

8 元>8 角

1 元 3 角>7 角

58 角<8 元 5 角

5. 算一算。

$$5 \text{ 元} - 3 \text{ 元} = (2) \text{ 元}$$

$$1 \text{ 元} - 4 \text{ 角} = (6) \text{ 角}$$

$$6 \text{ 元} + 5 \text{ 角} = (6) \text{ 元} (5) \text{ 角}$$

$$10 \text{ 元} + 4 \text{ 元} = (14) \text{ 元}$$

$$7 \text{ 角} + 3 \text{ 角} = (10) \text{ 角} = (1) \text{ 元}$$

$$6 \text{ 角} + 7 \text{ 角} = (1) \text{ 元} (3) \text{ 角}$$

$$1 \text{ 角} - 5 \text{ 分} = (5) \text{ 分}$$

$$1 \text{ 元} 2 \text{ 角} - 2 \text{ 角} = (1) \text{ 元}$$

6. 按从大到小的顺序排一排

100 元 20 元 9 分 10 元 5 角

100 元 > 20 元 > 10 元 > 5 角 > 9 分

5 元 20 角 9 角 1 元 9 角 60 角

60 角 > 5 元 > 20 角 > 1 元 9 角 > 9 角

二、选一选。(10 分)

1. 一本日记本的价钱大约是(①)

①8 元 ②8 角 ③8 分

2. 妈妈用 10 元钱买了一瓶饮料,找回 5 元 5 角,这瓶饮料的价钱是(③)

①5 元 ②5 元 5 角 ③4 元 5 角

3. 一张 50 元人民币可以换一张 20 元和(②)张 10 元的。

①5 ②3 ③2

4. 一块橡皮 5 角,英英拿 1 元钱买这块橡

家长签字:

教师评语:

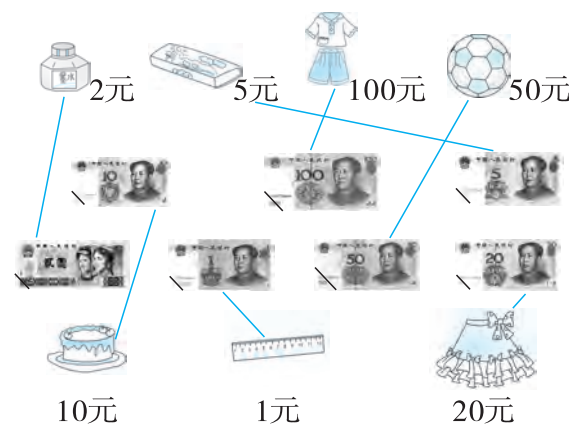
皮,应找回(②)

①5 元 ②5 角 ③5 分

5. 一支笔要 5 元,一个文具盒要 8 元。文具盒比这支笔(①)

①贵 ②便宜 ③无法比较

三、连一连。(7 分)



四、怎样付钱,在( )里填上需要的张数。(6 分)

26 元



(2)张 (1)张 ( )张



(1)张

答案不唯一


6 元 5 角



答案不唯一

## 五、解决问题。(共 36 分)

1.



(1)这 3 种各买一样,30 元够吗?

$$3 + 15 + 10 = 28(\text{元})$$

$$28 < 30 \quad \text{够}$$

(2)明明拿 50 元买文具盒,应找回多少钱?

$$50 - 10 = 40(\text{元})$$

(3)一个文具盒比一本笔记本便宜多少钱?

$$15 - 10 = 5(\text{元})$$

(4)你能再提一个问题吗,并解答。

答案不唯一,如一个笔记本比一个球贵多少钱?

$$15 - 3 = 12(\text{元})$$

2.



(1)一个足球和一个地球仪共要多少钱?

$$63 + 10 = 73(\text{元})$$

(2)付 50 元买一个足球,还差多少元钱?

$$63 - 50 = 13(\text{元})$$

(3)羽毛球拍比地球仪贵多少钱?

$$25 - 10 = 15(\text{元})$$

(4)妈妈付 85 元,找回 10 元。她买了什么商品?

$$85 - 10 = 75(\text{元})$$

她买了(一双鞋)

(5)50 元钱可以买上面哪两种商品。

$$10 + 25 = 35(\text{元})$$

$$50 > 35$$

买了(地球仪)和(羽毛球拍)。

3.



(1)英英买了一个水杯,还剩 23 元,英英原来有多少钱?

$$5 + 23 = 28(\text{元})$$

(2)妈妈付 15 元钱买一副手套,找回了 3 元钱,这副手套多少钱?

$$15 - 3 = 12(\text{元})$$

(3)明明也买了一副手套,他付的都是 5 元一张的,他至少要付几张?

$$5 + 5 + 5 = 15(\text{元}) \quad 15 > 12 \quad 3$$

